

الإختبار الثاني في مادة الرياضيات

الجزء الأول: (12 نقطة)

التمرين الأول: (03 نقاط)

(1) أنشر وبسط العبارة $(3x - 1)^2$.

لتكن العبارة الجبرية E حيث: $E = (2x + 3)(3x - 1) + 9x^2 + 1 - 6x$

(2) حلّ العبارة E إلى جداء عاملين من الدرجة الأولى.

(3) حلّ المعادلة: $(5x + 2)(3x - 1) = 0$

التمرين الثاني: (03 نقاط)

(1) هل العدد 0,5 حل للمترابحة: $-6x - 2 \leq 4x + 18$

(2) حلّ حسابياً المترابحة السابقة ثم مثل مجموعة حلولها بيانياً.

التمرين الثالث: (03 نقاط)

$ABCD$ متوازي أضلاع، O نقطة تقاطع قطريه $[AC]$ و $[BD]$.

(1) أنشئ النقطة N صورة النقطة B بالإنسحاب الذي شعاعه \overrightarrow{OC} .

(2) بين أن الرباعي $ABNO$ متوازي أضلاع.

(3) ما هي صورة المثلث ONC بالإنسحاب الذي شعاعه \overrightarrow{CO} .

التمرين الرابع: (03 نقاط)

الشكل المقابل مرسوم بأطوال غير حقيقية.

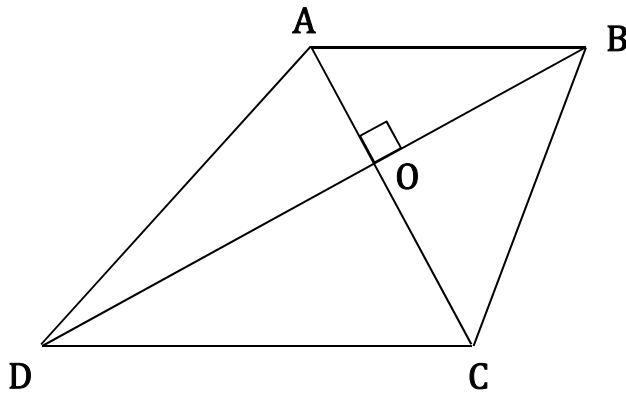
$ABCD$ رباعي قطراه متعامدان في النقطة O حيث:

$$OD = 18 \text{ cm} ; OC = 12 \text{ cm} ;$$

$$OB = 7,5 \text{ cm} ; OA = 05 \text{ cm}$$

(1) برهن أن المستقيمان (AB) و (DC) متوازيان.

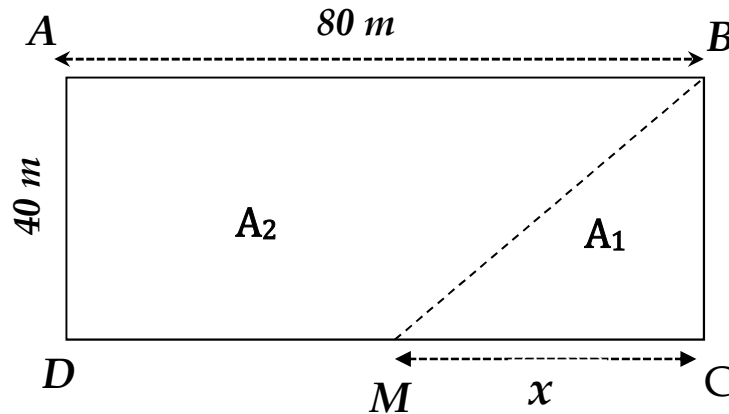
(2) أحسب الطول DC (تعطى النتيجة على شكل $a\sqrt{13}$)



الجزء الثاني: (08 نقاط)

المسألة:

- أ. يمثل الشكل المقابل قطعة أرض شكلها مستطيل أطوالها بوحدة المتر ، يريد محمد شراء هذه القطعة ، إذا علمت أن ثمن المتر المربع الواحد هو 6000 DA .
- (1) أحسب المبلغ الذي يدفعه محمد لشراء هذه قطعة .
- أ. عجز محمد عن تسديد كل المبلغ فقرر التنازل عن القطعة التي مساحتها A_2 لأخيه علي .
- (1) عبّر عن مساحتي الجزئين A_1 و A_2 بدلالة x .
- (2) إذا اعتبرنا أن مساحة الجزء A_1 هي : $20x$ ومساحة الجزء A_2 هي : $3200 - 20x$.
- أ- أوجد قيم x التي تكون من أجلها مساحة القطعة A_2 تساوي $3000 m^2$.
- ب- أوجد قيم x التي يكون من أجلها مساحة الجزء A_2 أكبر بثلاث مرات من مساحة الجزء A_1 .

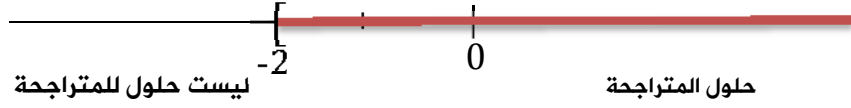


ملاحظة : استخدم لوناً واحداً للكتابة والتسطير ، القلم الأزرق أو الأسود فقط .

العلامة		عناصر الإجابة
المجموع	مجزأة	
03		التمرين الأول : (03 نقاط)
	0,5	(1) نشر وتبسيط العبارة $(3x - 1)^2$ $(3x - 1)^2 = (3x)^2 + 1^2 - 2 \times 3x \times 1$ $= 9x^2 + 1 + 6x$
	0,5	(2) تحليل العبارة E : $E = (2x + 3)(3x - 1) + 9x^2 + 1 - 6x$ $E = (2x + 3)(3x - 1) + (3x - 1)^2$ $E = (3x - 1)[(2x + 3) + (3x - 1)]$
	0,5	$E = (3x - 1)(2x + 3 + 3x - 1)$
	0,5	$E = (3x - 1)(5x + 2)$
		(3) حل المعادلة : $(5x + 2)(3x - 1) = 0$ $(5x + 2)(3x - 1) = 0$
	0,25	إما $5x + 2 = 0$ أي $5x = -2$
	0,25	ومنه : $x = -\frac{2}{5}$
		أو $3x - 1 = 0$ أي $3x = 1$
	0,25	ومنه : $x = \frac{1}{3}$
	إذن للمعادلة حلين هما $-\frac{2}{5}$ و $\frac{1}{3}$	
03		التمرين الثاني : (03 نقاط)
	0,25	(1) هل العدد 0,5 حل للمتراحة : $-6x - 2 \leq 4x + 18$ $-6 \times 0,5 - 2 \leq 4 \times 0,5 + 18$ $-3 - 2 \leq 2 + 18$ $-5 \leq 20$
	0,5	نلاحظ أن المتباينة $-5 \leq 20$ محققة ، إذن العدد 0,5 حل للمتراحة.
	0,25	(2) حل المتراحة وتمثيل حلولها بيانياً : $-6x - 2 \leq 4x + 18$ $-6x - 4x \leq 18 + 2$ $-10x \leq 20$ $x \geq -\frac{20}{10}$ $x \geq -2$
	0,25	
	0,25	
	0,25	



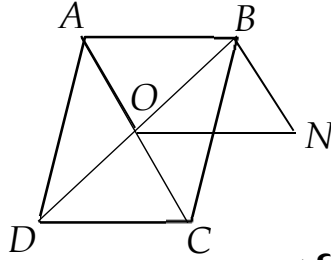
01



التمرين الثالث : (03 نقاط)

$ABCD$ متوازي أضلاع ، O نقطة تقاطع قطريه .

(1) إنشاء الشكل :

(2) البرهان أن الرباعي $ABNO$ متوازي أضلاع .

بما أن N هي صورة B بالإنسحاب الذي شعاعه \vec{AO} فإن $\vec{AO} = \vec{BN}$ ومنه الرباعي $ABNO$ متوازي أضلاع .

(3) صورة المثلث ONC بالإنسحاب الذي شعاعه \vec{CO} المثلث ABO

01

03

0,5
0,5
01

التمرين الرابع (03 نقاط)

(1) البرهان أن المستقيمان متوازيان :

$$\text{لدينا : } \frac{OD}{OB} = \frac{18}{7,5} = \boxed{2,4} \quad \text{و} \quad \frac{OC}{OA} = \frac{12}{5} = \boxed{2,4}$$

نستنتج أن : $\frac{OC}{OA} = \frac{OD}{OB}$ ، والنقط D , O , B في استقامة وكذلك النقط

A , O , C وبنفس الترتيب . إذن المستقيمان (DC) و (AB)

متوازيان . (حسب عكس نظرية طالس)

(2) حساب الطول DC :بتطبيق مبرهنة فيثاغورس على المثلث ODC القائم في O فإن :

$$DC^2 = OC^2 + OD^2 \quad \text{أي} \quad DC^2 = 12^2 + 18^2 = 144 + 324$$

$$DC^2 = 468 \quad \text{إذن} \quad DC = \sqrt{468} = \boxed{6\sqrt{13} \text{ cm}}$$

0,5

0,5

0,5

03



01 . حساب المبلغ الذي يدفعه محمد:

• حساب مساحة القطعة ونرمز لها بـ : A

02

$$A = 80 \times 40 = 3200$$

إذن مساحة قطعة الأرض هي : $3200 m^2$

01 • المبلغ الذي يدفعه محمد هو المساحة \times ثمن المتر المربع

$$\text{الواحد} \cdot \text{أي : } 3200 \times 6000 = 1920000 \text{ DA}$$

• التعبير عن مساحتي الجزأين A_1 و A_2 بدلالة x :

01

01

$$A_1 = \frac{40x}{2} = 20x$$

$$A_2 = A - A_1 = 3200 - 20x$$

أ- إيجاد قيم x التي تكون من أجلها مساحة القطعة A_2 تساوي $3000 m^2$:

0,25

0,25

0,25

$$A_2 = 3200$$

$$3200 - 20x = 3200$$

$$-20x = 3000 - 3200$$

0,25

$$-20x = -200$$

0,25

$$x = -\frac{200}{-20}$$

04,5

$$x = 10$$

0,25

0,25

ب- إيجاد قيم x التي تكون من أجلها مساحة القطعة A_2 أكبر بثلاث مرات من A_1
 $A_2 > 3 A_1$

0,25

0,25

$$3200 - 20x > 3 \times 20x$$

$$3200 - 20x > 60x$$

$$-20x - 60x > -3200$$

$$-80x > -3200$$

0,25

$$x < -\frac{3200}{-80}$$

$$x < 40$$



شبكة تصحيح المسألة

السؤال	المعيار	المؤشرات	سلم التنقيط	العلامة الجزئية	العلامة النهائية
1	1م	<ul style="list-style-type: none"> ❖ حساب مساحة الحقل. ❖ حساب المبلغ الذي يدفعه محمد. 	0,5 إن وفق في مؤشر واحد 01 إن وفق في مؤشرين	01	02
	2م	<ul style="list-style-type: none"> ❖ حساب مساحة الحقل صحيح. ❖ حساب المبلغ الذي يدفعه محمد صحيح. 	0,5 إن وفق في مؤشر واحد 01 إن وفق في مؤشرين	01	
2	1م	<ul style="list-style-type: none"> ❖ التعبير عن مساحة الجزء A_1 بدلالة x. ❖ التعبير عن مساحة الجزء A_2 بدلالة x. ❖ وضع معادلة لإيجاد قيم x بحيث : $A_2 = 3000 m^2$ ❖ وضع متراجحة لإيجاد قيم x بحيث : $A_2 > 3A_1$ 	01 إن وفق في مؤشر واحد 02 إن وفق في مؤشرين 02,5 إن وفق في ثلاث مؤشرات فأكثر	02,5	04,5
	2م	<ul style="list-style-type: none"> ❖ التعبير عن مساحة الجزء A_1 بدلالة x صحيح. ❖ التعبير عن مساحة الجزء A_2 بدلالة x صحيح. ❖ المعادلة صحيحة وقيم x صحيحة. ❖ المتراجحة صحيحة وقيم x صحيحة. 	01 إن وفق في مؤشر واحد 02 إن وفق في مؤشرين 02,5 إن وفق في ثلاث مؤشرات فأكثر	02	
كل المسألة	3م	<ul style="list-style-type: none"> ❖ تسلسل منطقي للمراحل. ❖ النتائج معقولة . ❖ الوحدات ملائمة. 	0,25 إن وفق في مؤشر واحد 0,5 إن وفق في مؤشرين فأكثر	0,5	01,5
	4م	<ul style="list-style-type: none"> ❖ المقروئية ❖ عدم التشطيب 	0,5 إن وفق في مؤشر واحد 01 إن وفق في مؤشرين	01	

م2 | الاستعمال السليم لأدوات المادة.

م1 | التفسير السليم للوضعية

م4 | الإتقان

م3 | إنسجام النتائج

